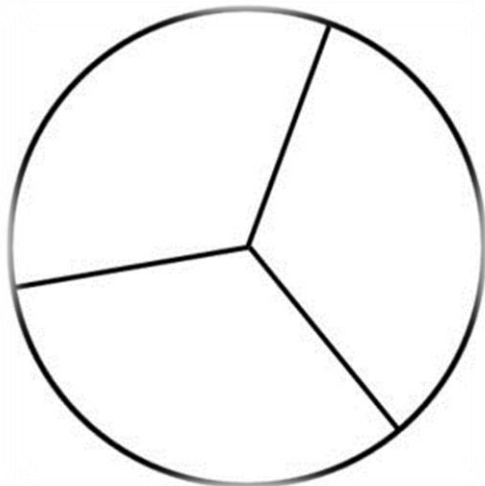
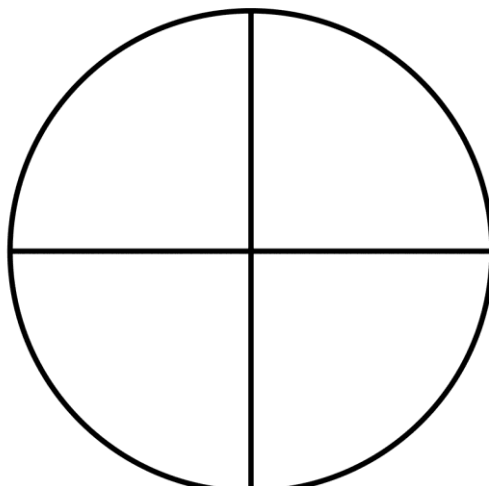


Nu skal vi spise nogle skiver av pizza men vi mangler pålæg. Du kan se at pizzaerne har ikke samme antal av skiver du får spise men du ser ved siden av hver hvor mange skiver skal have pålæg. En har f.e. tre skiver og det står $2/3$ ved siden av den. Det betyder at du skal spise to skiver av tre på denne pizza og så skal du sætte pålæg på de to skiver du for spise. Du skal sætte pålæg på alle pizzaerne. Hvilket pålæg skal på din pizza?

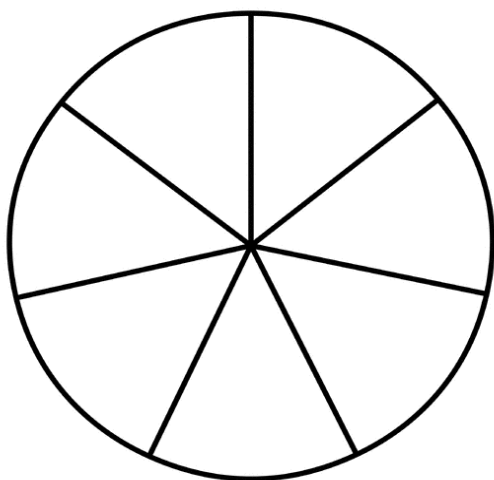
$2/3$



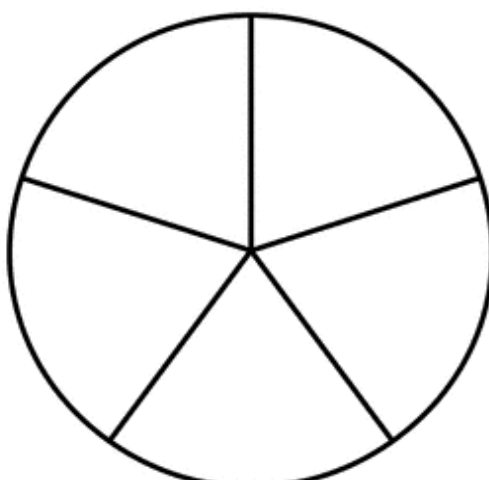
$3/4$



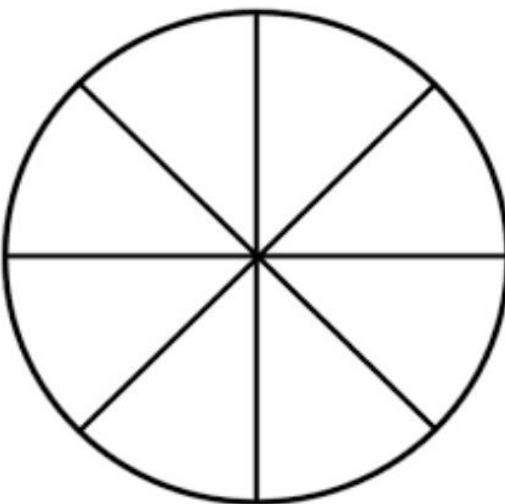
$6/7$



$4/5$



$5/8$



$1/2$

